

Шифр

| | | | | | | | | | | | | | | | | | | | |
|---|---|---|---|---|---|---|---|---|---|--|--|--|--|--|--|--|--|--|--|
| 9 | - | 3 | 3 | - | 2 | - | 2 | - | 2 | | | | | | | | | | |
|---|---|---|---|---|---|---|---|---|---|--|--|--|--|--|--|--|--|--|--|

**Всероссийская олимпиада школьников по географии
школьный этап 2022-2023 учебный год**

9 класс

ЛИСТ ОТВЕТОВ

| Участник олимпиады | |
|--------------------|-----------|
| Фамилия | КОНЕВА |
| Имя | Елизавета |
| Отчество | Юрьевна |

| № задания | Баллы | | | | Тесты |
|-------------------------------------|-----------|--------------------|------|-----|-------|
| | 1 | 2 | 3 | 4 | |
| Количество баллов | 6,5 | 1,5 + 0,5 = 2,0 | 6,55 | 4,5 | 20 |
| Подпись члена жюри | | СМФ | | | |
| Сумма баллов и подпись председателя | 385 = 69% | | | | |

Шифр

| | | | | | | | | | | | | | | | | | | | |
|---|---|---|---|---|---|---|---|---|---|--|--|--|--|--|--|--|--|--|--|
| 9 | - | 3 | 3 | - | 2 | - | 2 | - | 2 | | | | | | | | | | |
|---|---|---|---|---|---|---|---|---|---|--|--|--|--|--|--|--|--|--|--|

**Всероссийская олимпиада школьников по географии
школьный этап 2022-2023 учебный год**

9 класс

**Лист ответов
Тестовый тур**

| № | Ответ |
|----|-------------------------|
| 1 | В |
| 2 | В |
| 3 | Б |
| 4 | В |
| 5 | Р |
| 6 | В |
| 7 | Р |
| 8 | Б |
| 9 | Р |
| 10 | В |
| 11 | Р |
| 12 | Р |
| 13 | Б |
| 14 | 1-В, 2-В, 3-Р, 4-А, 5-Б |
| 15 | А |
| 16 | Р, В, В, А, Б |
| 17 | В, А, В, Б, Р |

1

1

1

1

1

1

2,5

0,5

2,0

2,5

Шифр

| | | | | | | | | | | | | | | | | | | | |
|---|---|---|---|---|---|---|---|---|---|--|--|--|--|--|--|--|--|--|--|
| 9 | - | 3 | 3 | - | 2 | - | 2 | - | 2 | | | | | | | | | | |
|---|---|---|---|---|---|---|---|---|---|--|--|--|--|--|--|--|--|--|--|

| | | |
|-----|----|---------------------------------------|
| 2,5 | 18 | A-5-I; B-4-IV; B-1-II; P-3-III; D-2-V |
| 2,5 | 19 | 1-A, 2-D, 3-B, 4-B, 5-B |
| 4,5 | 20 | A-3-I; B-5-IV; P-4-V; D-1-III |

205

Шифр

9 - 3 3 - 2 - 2 - 2

Теоретический тур

Задание № 1. «Космический снимок»






| № | Вопрос | Ответ |
|---|--|---|
| 1 | Как называется этот искусственный гидрографический объект? | Суэцкий канал 1 |
| 2 | Какие части света он разъединяет? | Африку и Азию 1 |
| 3 | Какие водные объекты он соединяет? | Каспийское море и Средиземное море |
| 4 | Какие города расположены на берегу объекта? | Суэз и Порт-Саид 1 |
| 5 | На территории какого государства расположен этот гидрографический объект? | Египет 1 |
| 6 | Столица государства, на территории которого расположен этот гидрографический объект? | Каир 1 |
| 7 | Почему этот объект без иллюзов? | Нет перепада высот 1 |

6/6

Шифр


9 - 3 3 - 2 - 2 - 2

Задание № 2. «Картографическое»

| Контур озера | Название | Материк | Происхождение | Сведения |
|--|----------------|------------------|---------------|--|
|  А | | Евразия | | Уровень озера находится ниже уровня Мирового океана. Оно расположено преимущественно в зонах полупустынь и пустынь внутренней области материка |
|  Б | Ванское 0,5 | Северная Азия | Ледниково | На территории озера находятся знаменитые заповедники и национальные парки. Наиболее интересен национальный парк острова Рубондо. |
|  В | | | Остаточное | В течение своей истории оно неоднократно претерпевало трансгрессии и регрессии — и увеличения и последующие усыхания |
|  Г | Танганьика | Африка | Танганьикское | В Республике Малави, которой принадлежит большая часть побережья, оно официально называется Малави, по названию страны и этнической группы. В Танзании и Мозамбике используется географическое название. |
|  | | | | Пятое по величине озеро материка. Оно |

Шифр

9 - 3 3 - 2 - 2 - 2





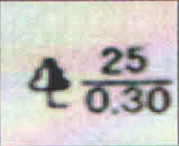



| | | | | |
|---|--|---------|-------------------------|---|
| Д | Онтарио | | | связано с оз. Эри рекой, на которой находится знаменитый водопад |
| Е |  Ладожское озеро | Евразия | Ледниково-тектоническое | С сентября 1941г. по март 1943г. действовала «Дорога жизни». Она связывала находящийся в блокаде г. Ленинград с остальной территорией страны. |

| № | Вопрос | Ответ |
|----|--|-----------------------|
| 1. | Берега каких пяти стран омывает озеро А? | |
| 2. | В честь кого названо озеро Б? | Королевы Виктории 0,5 |
| 3. | Какая деятельность человека ускорило усыхание озера В? | |
| 4. | Какое озеро мира называют сестрой озера Г? | |
| 5. | Назовите водопад на реке, которая связывает оз. Д и оз. Эри? | |
| 6. | Как назывался водный путь, проходящий по озеру Е из Скандинавии через Восточную Европу в Византию с IX века? | |

Шифр



| | | | | | | | | | | | | | | | | | | |
|---|---|---|---|---|---|---|---|---|---|--|--|--|--|--|--|--|--|--|
| 9 | - | 3 | 3 | - | 2 | - | 2 | - | 2 | | | | | | | | | |
|---|---|---|---|---|---|---|---|---|---|--|--|--|--|--|--|--|--|--|

Задание № 3. «Топографическое»

| Условный знак на топографической карте | Название условного знака | Номер объекта на Рисунке (если обозначен) | Расшифровка текстовых подписей условных знаков |
|---|--------------------------|---|--|
|  | Хвойный лес | - | 0,5 |
|  | Шоссе | - | |
|  | Вырубленный лес | - | 0,5 |
|  | Церковь | 2 | 18. |
|  | Дерево | 1 | 45 |
|  | Река | 4 | 18 |
|  | Луговое | 3 | 18. |
|  | | - | |

Шифр

| | | | | | | | | | | | | | | | | | | | |
|---|---|---|---|---|---|---|---|---|---|--|--|--|--|--|--|--|--|--|--|
| 9 | - | 3 | 3 | - | 2 | - | 2 | - | 2 | | | | | | | | | | |
|---|---|---|---|---|---|---|---|---|---|--|--|--|--|--|--|--|--|--|--|

| | | | |
|---|----------------|-----|-----|
|  | Мост | 5 | 1,5 |
|  | Хвойное дерево | 0,5 | 0,5 |

2,5

Задание № 4. «Историческая география»

| Вопрос | Ответ |
|---|---|
| 1. Назовите имя натуралиста, о котором говорится в Указе президента РФ? | Арсеньев 1 |
| 2. В качестве кого совершил первые свои экспедиции по югу Дальнего Востока? | Томскаер 1 |
| 3. Перед вам памятник на сопке Увальной. В каком городе он возведен? | Касовка . |
| 4. Какие книги написал путешественник, в честь которого разработан фирменный знак, и с какой целью? | "Дереву Удана", "В горах Сихотэ-линга", "Сибирь тайна" и т.д. С целью ознакомления оседлой публики с природой Дальнего Востока 2 + 0,5 = 2,5 |
| 5. Запишите фамилию норвежского путешественника | — |